



BOURGEOISIE  
DE MONTHEY

## Quiz de (re)découverte - 2019



<b>1</b> - Quelle est la montagne la plus haute de la commune de Monthey ?	<b>A</b> – Valerette <b>B</b> – Pointe de Chésery <b>C</b> – Cime de l'Est <b>D</b> – Bellevue
<b>2</b> - Quelles sont les couleurs de l'eau décrites sur le sentier didactique : « les couleurs de l'eau » dans le vallon de They ?	<b>A</b> – noire / verte / jaune / blanche / bleue <b>B</b> – rouge / bleue / jaune / blanche / verte <b>C</b> – bleue / rouge / grise / beige / verte
<b>3</b> - Au sud-ouest de Morgins, quelle montagne domine le vallon ?	<b>A</b> – le Cheval blanc <b>B</b> – le Géant <b>C</b> – la Foilleuse
<b>4</b> - A travers le vallon de They, et par le col de Chésery, les gens de la région allaient en pèlerinage vénérer St Guérin, à pied et par le chemin historique du vallon de They (VS 714),	<b>A</b> – à l'Abbaye de Tanninges ? <b>B</b> – A l'Abbaye de St Jean d'Aulps ? <b>C</b> – A l'Abbaye d'Abondance ?
<b>5</b> – La Pierre à Miaux, BF 29 au Col de Chésery est un quadripoint faisant limite entre les communes de :	<b>A</b> – Champéry / Châtel / Val d'Illicz / Morgins ? <b>B</b> – Monthey / Montriond / Abondance / Val d'Illicz ? <b>C</b> – Troistorrents / Monthey / Avoriaz / Châtel ? <b>D</b> – Val d'Illicz / Troistorrents / Chapelle d'Abondance / Monthey ?
<b>6</b> – Une carrière a été exploitée sous le Géant (période pas connue à ce jour), il s'agissait de :	<b>A</b> – manganèse ? <b>B</b> – ardoise ? <b>C</b> – charbon ? <b>D</b> – tuffe ?
<b>7</b> – Quels sont les alpages situés dans l'enclave monthesanne du vallon de They et qui n'appartiennent pas à la Bourgeoisie de Monthey ?	<b>A</b> – Dronnaire et l'Hiver <b>B</b> – Chésery et la Rotze (Rochats) <b>C</b> – They et Sassey <b>D</b> – Tovassières et Chésery
<b>8</b> – Quels sont les lacs et étangs situés dans le vallon de They ?	<b>A</b> – Lac de Morgins / Etang de Sassey / Lac de Chésery <b>B</b> – Lac vert / Lac de Chésery / Etang de Sassey <b>C</b> – Lac de Conche / Lac Vert / Lac de Chésery
<b>9</b> – Sur quel(s) territoire(s) est situé le col des Portes du Soleil ? :	<b>A</b> – entre les communes de Monthey et Troistorrents <b>B</b> – sur la commune de Val d'Illicz <b>C</b> – entre les communes de Champéry et Monthey
<b>10</b> – 4 cols et passages relient l'enclave monthesanne du vallon de They avec la France, ce sont :	<b>A</b> – Portes du Soleil / Chésery / Géant / Blattin ? <b>B</b> – Chésery / Chaux des Rosées / Blattin / Géant ? <b>C</b> – Pas de Morgins / l'Hiver / Chésery / Chaux des Rosées ?



BOURGEOISIE  
DE MONTHEY

## Quiz Bourgeoisie de Monthey




*Chères et Chers membres de la Bourgeoisie de Monthey,*

*Votre comité vous propose un Quiz sur le thème de la découverte ou redécouverte du vallon de They, entre géographie, géologie et histoire. A gagner :*

***4 bons de 100.- fr pour vous restaurer dans les 2 buvettes des alpages de Vieux They et de Tovassières***

### Règlement du concours

- Il est ouvert à tous les membres de la Bourgeoisie de Monthey, une seule réponse est autorisée par membre
- Des copies de la présente page peuvent être partagées dans votre famille, et ainsi permettre d'étendre le concours dans votre entourage.
- Vos réponses sont à envoyer au secrétariat de la Bourgeoisie de Monthey, ou par courriel : [bourgeoisie@monthey.ch](mailto:bourgeoisie@monthey.ch)
- Les dernières réponses doivent nous parvenir pour le 29 février 2020. Le tirage au sort des bulletins gagnants s'effectuera lors de notre prochaine AG au printemps 2020.
- Veuillez noter ci-dessous les lettres correspondant aux réponses aux 10 questions posées.

Questions	Vos réponses		
1			
2			
3			
4			
5			
6			
7			
8			
9			
10			

<b>Nom</b>	.....	<b>Prénom</b>	.....
<b>Adresse courriel</b>	.....		

Bonne chance, et rendez-vous à notre Assemblée générale fin mars 2020 pour les résultats.